

令和6年度 東京都毒物劇物取扱者試験 問 題

農業用品目（筆記試験・実地試験）2

◎ 指示があるまで開いてはいけません。

注 意 事 項1

- 1 問題は全部で12問です。筆記試験は問1から問9まで、実地試験は問10から問12までです。総ページ数は23ページです。
- 2 試験時間は、午前10時から午前11時30分までの1時間30分です。
- 3 解答用紙は、問題とは別に配布します。
解答用紙には、必ず氏名、フリガナ及び受験番号を記入し、また、受験番号に該当する数字を塗りつぶしてください。
試験終了後は、解答用紙のみ提出してください。
- 4 解答方法は次のとおりです。
Ⅰ 解答用紙の該当箇所の数字を塗りつぶしてください。
設問に対する解答は、1設問に対して一つです。複数箇所を塗りつぶした場合は、解答したことにはなりません。

解 答 例





(100) 炭素の元素記号として正しいものはどれか。

1 A 2 B 3 C 4 D


正しい答えは「3」であるから、**③** を塗りつぶして、


(100)	①	②	●	④
-------	----------	---	---	---

とすればよい。

良い例 ● 悪い例    

細い 短い うすい はみでる

- 2 解答用紙への記入は、HBの鉛筆又はシャープペンシルを使用してください。
- 3 解答を修正した場合は、消しゴムであとが残らないように完全に消してください。
鉛筆のあとが残ったり、 のような消し方をした場合は、修正又は解答したことにはならないので注意してください。
- 4 解答用紙は、折り曲げたり汚したりしないよう、注意してください。
- 5 問題が次のページに続くことがあるので、注意してください。
- 6 設問中、化学物質の性状等については、特に指定のない限り、20℃、1気圧におけるものとして解答してください。
- 7 問題の内容については、質問を受け付けません。



問1 (問1のリンクはない。条文そのまま)

次は、毒物及び劇物取締法の条文の一部である。 (1) ~ (5) にあてはまる字句として、正しいものはどれか。

(目的)

[第1条](#)

この法律は、毒物及び劇物について、保健衛生上の見地から必要な **3取締** を行うことを目的とする。

(定義)

[第2条第1項](#)

この法律で「毒物」とは、別表第一に掲げる物であつて、 **1医薬品** 及び医薬部外品以外のものをいう。

(禁止規定)

[第3条第3項](#)

毒物又は劇物の販売業の登録を受けた者でなければ、毒物又は劇物を販売し、授与し、又は販売若しくは授与の目的で **2貯蔵** し、運搬し、若しくは陳列してはならない。(以下省略)

(禁止規定)

[第3条の4](#)

引火性、発火性又は **1爆発性** のある毒物又は劇物であつて政令で定めるものは、業務その他正当な理由による場合を除いて **4所持** してはならぬ **3条4**

- | | | | | |
|-------|-------|--------|-------|--------|
| (1) | 1 規制 | 2 指導 | 3 取締 | 4 管理 |
| (2) | 1 医薬品 | 2 医療機器 | 3 食品 | 4 危険物 |
| (3) | 1 所持 | 2 貯蔵 | 3 交付 | 4 広告 |
| (4) | 1 爆発性 | 2 刺激性 | 3 腐食性 | 4 発がん性 |
| (5) | 1 輸入 | 2 譲渡 | 3 使用 | 4 所持 |

問2

次は、毒物及び劇物取締法、同法施行令及び同法施行規則に関する記述である。

(6) ~ (10) の問いに答えなさい。

(6) 毒物又は劇物の営業の登録に関する記述の正誤について、正しい組合せはどれか。

- a 毒物又は劇物の製造業の登録は、6年(5年)ごとに更新を受けなければ、その効力を失う。誤
- b 毒物又は劇物の輸入業の登録は、厚生労働大臣(都道府県知事)が行う。誤
- c 毒物又は劇物の販売業の登録は、5年(6年)ごとに更新を受けなければ、その効力を失う。誤
- d 毒物又は劇物の販売業の登録は、店舗ごとに受けなければならない。正

	a	b	c	d
1	正	誤	誤	誤
2	正	正	誤	正
3	正	誤	正	正
4	誤	誤	誤	正

(7) 法第12条第2項において、毒物劇物営業者が毒物又は劇物を販売するためにその容器及び被包に表示しなければならないと規定されている事項の正誤について、正しい組合せはどれか。

- a 毒物又は劇物の名称正
- b 毒物又は劇物の使用期限誤
- c 毒物又は劇物の成分及びその含量正

	a	b	c
1	正	正	正
2	正	正	誤
3	正	誤	正
4	誤	正	正

(8) 法第3条の3において 「興奮、幻覚又は麻酔の作用を有する毒物又は劇物 (これらを含む。) であつて政令で定めるものは、みだりに摂取し、若しくは吸入し、又はこれらの目的で所持してはならない。」 とされている。

次のa～dのうち、この「政令で定めるもの」に該当するものはどれか。正しいものの組合せを選びなさい。

- a **メタノールを含有するシンナー**
- b クロロホルム
- c **酢酸エチルを含有する接着剤**
- d 亜塩素酸ナトリウム

- 1 a、b
- 2 a、c**
- 3 b、d
- 4 c、d

(9) 毒物劇物取扱責任者に関する記述の正誤について、正しい組合せはどれか。

- a 毒物劇物営業者は、毒物劇物取扱責任者を変更するときは、事前に届け出なければならない。 **誤**
三十日以内に～氏名を届け出なければならない 10条
- b **18歳未満の者**は、都道府県知事が行う毒物劇物取扱者試験に合格した者であっても、毒物劇物取扱責任者になることができない。 **正**
- c 特定品目毒物劇物取扱者試験に合格した者は、特定品目のみを取り扱う製造業の製造所の毒物劇物取扱責任者になることができる。 **誤**
- d 一般毒物劇物取扱者試験に合格した者は、農薬用品目のみを取り扱う製造業の製造所の毒物劇物取扱責任者になることができる。 **正**

	a	b	c	d
1	正	正	誤	誤
2	誤	正	正	正
3	正	誤	正	正
4	誤	正	誤	正

(10) 次のa～dのうち、法第22条に基づく毒物劇物業務上取扱者として、**届出が必要なもの**はどれか。正しいものの組合せを選びなさい。 **施行令41条**

- a **シアン化カリウムを使用して、金属熱処理を行う事業**
- b モノフルオール酢酸ナトリウムを使用して、野ねずみの駆除を行う事業
- c 燐化アルミニウムとその分解促進剤とを含有する製剤を使用して、コンテナ内のねずみ、昆虫等の駆除を行う事業
- d **亜砒酸を使用して、しろありの防除を行う事業**

- 1 a、b
- 2 a、d**
- 3 b、c
- 4 c、d

問3

次は、毒物又は劇物の取扱い等に関する記述である。毒物及び劇物取締法、同法施行令及び同法施行規則の規定に照らし、(11) ~ (15) の問いに答えなさい。

(11) 毒物劇物営業者、特定毒物研究者又は毒物劇物業務上取扱者が、その取扱いに係る毒物又は劇物の事故の際に講じた措置に関する記述の正誤について、正しい組合せはどれか。

- a 毒物劇物輸入業者の営業所内で劇物を紛失したが、少量であったため、その旨を警察署に届け出なかった。誤
- b 劇物が毒物劇物製造業者の敷地外に流出し、近隣の住民に保健衛生上の危害が生ずるおそれがあるため、直ちに、その旨を保健所、警察署及び消防機関に届け出るとともに、保健衛生上の危害を防止するために必要な応急の措置を講じた。正
- c 特定毒物研究者の取り扱う毒物が盗難にあったが、特定毒物ではなかったため、警察署に届け出なかった。誤
- d 毒物劇物業務上取扱者の事業場内で劇物を紛失したため、少量ではあったが、直ちに、その旨を警察署に届け出た。正

	a	b	c	d
1	正	誤	誤	誤
2	誤	誤	正	正
3	誤	正	正	誤
4	誤	正	誤	正

(12) [法第14条の規定](#)により、毒物劇物営業者が毒物又は劇物を毒物劇物営業者以外の者に販売するにあたり、その譲受人から提出を受けなければならない書面に記載が必要な事項の正誤について、正しい組合せはどれか。

- a 使用目的
- b 使用の年月日
- c 販売の年月日
- d 譲受人の年齢

a, b, dは誤

	a	b	c	d
1	正	正	正	誤
2	誤	誤	正	正
3	誤	誤	正	誤
4	誤	正	誤	正

(13) 毒物劇物営業者における毒物又は劇物を取り扱う設備等に関する記述の正誤について、正しい組合せはどれか。

- a 毒物劇物製造業者の製造所において、製造作業を行う場所を、板張りの構造とし、その外に毒物が飛散し、漏れ、しみ出若しくは流れ出、又は地下にしみ込むおそれのない構造とした。正
- b 毒物劇物輸入業者が、劇物を貯蔵する場所が性質上かぎをかけることができないものであったため、その周囲に堅固なさくを設けた。正
- c 毒物劇物販売業者の店舗へ毒物を運搬する際、飛散し、漏れ、又はしみ出るおそれのない容器を使用した。正
- d 毒物劇物輸入業者の営業所において、劇物を貯蔵する場所には、劇物を含有する粉じん、蒸気又は廃水の処理に要する設備又は器具を備え付けなければならない。誤（劇物は鍵のかかる保管庫や棚に入れて保管）

	a	b	c	d
1	正	正	正	正
2	正	正	正	誤
3	誤	正	誤	誤
4	誤	誤	正	正

(14) 四アルキル鉛を含有する製剤を、車両1台を使用して、1回につき6000キログラムを運搬する場合の運搬方法に関する記述の正誤について、正しい組合せはどれか。

- a 運搬する車両に、法で定められた保護具を1人分備えた。誤（2人以上）
- b 0.3メートル平方の板に地を黒色、文字を白色として「毒」と表示した標識を車両の前後の見やすい箇所に掲げた。正
- c 車両には、運搬する毒物の名称、成分及びその含量並びに事故の際に講じなければならない応急の措置の内容を記載した書面を備えた。正

	a	b	c
1	正	正	誤
2	誤	誤	正
3	誤	正	正
4	誤	正	誤

(15) 荷送人が、運送人に対し、車両又は鉄道によって1500キログラムの劇物の運搬を委託する場合の、令第40条の6の規定に基づく荷送人の通知義務に関する記述の正誤について、正しい組合せはどれか。

- a 運送人の承諾を得たため、書面の交付に代えて、口頭（書面が必要）で通知した。誤
- b 運送距離が50キロメートル以内であったので、通知（要通知）しなかった。誤
- c 通知する書面には、劇物の名称、成分及びその含量並びに数量並びに事故の際に講じなければならない応急の措置の内容を記載した。正

	a	b	c
1	正	誤	正
2	正	誤	誤
3	誤	正	誤

問4

次は、毒物劇物営業者、特定毒物研究者又は毒物劇物業務上取扱者である「A」～「D」の4者に関する記述である。毒物及び劇物取締法、同法施行令及び同法施行規則の規定に照らし、(16)～(20)の問いに答えなさい。

ただし、「A」、「B」、「C」、「D」は、それぞれ別人又は別法人であるものとする。

「A」：毒物劇物輸入業者 水酸化ナトリウム及び特定毒物であるモノフルオール酢酸ナトリウムを輸入できる登録のみを受けている事業者である。
「B」：毒物劇物一般販売業者 毒物及び劇物を販売できる登録のみを受けている事業者である。
「C」：特定毒物研究者 特定毒物であるモノフルオール酢酸ナトリウムを用いた学術研究を行うために特定毒物研究者の許可のみを受けている研究者である。ただし、毒物劇物営業者ではない。
「D」：毒物劇物業務上取扱者（ 取扱者で販売者でない ） 研究所において、水酸化ナトリウム及び20%水酸化ナトリウム水溶液を学術研究のために使用している事業者である。水酸化ナトリウム及び20%水酸化ナトリウム水溶液以外の毒物及び劇物は扱っておらず、毒物及び劇物取締法に基づく登録・

(16) 「A」、「B」、「C」、「D」における販売等に関する記述の正誤について、正しい組合せはどれか。

- a 「A」は、自ら輸入した特定毒物であるモノフルオール酢酸ナトリウムを「B」に販売することができる。 **正**
- b 「A」は、自ら輸入した水酸化ナトリウムを「D」に販売（**販売できない**）することができる。 **誤**
- c 「B」は、特定毒物であるモノフルオール酢酸ナトリウムを「C」に販売することができる。 **正**
- d 「B」は、水酸化ナトリウムを「D」に販売することができる。 **正**

	a	b	c	d
1	正	誤	正	正
2	誤	正	誤	誤
3	正	正	誤	正
4	正	正	正	誤

(17) 「A」は、登録を受けている営業所において、新たに20%水酸化ナトリウム水溶液を輸入し、販売することになった。「A」が行わなければならない手続として、正しいものはどれか。

「A」は毒物劇物輸入業者

- 1 20%水酸化ナトリウム水溶液を輸入する前に、輸入品目の登録の変更を受けなければならない。 **正**
- 2 20%水酸化ナトリウム水溶液を輸入した後、30日以内に輸入品目の登録の変更を届け出なければならない。
- 3 20%水酸化ナトリウム水溶液を輸入した後、直ちに輸入品目の登録の変更を届け出な

ければならない。

4 原体である水酸化ナトリウムの輸入の登録を受けているため、法的手続は要しない。

(18) 「B」は、東京都新宿区にある店舗において毒物劇物一般販売業の登録を受けているが、この店舗を廃止し、東京都目黒区に新たに設ける店舗に移転して、引き続き毒物劇物一般販売業を営む予定である。この場合に必要な手続に関する記述のうち、正しいものはどれか。

- 1 目黒区の店舗へ移転した後、30日以内に店舗所在地の変更届を提出しなければならない。
- 2 目黒区の店舗で業務を始める前に、登録票の店舗所在地の書換え交付を申請しなければならない。
- 3 目黒区の店舗で業務を始める前に、新たに目黒区の店舗で毒物劇物一般販売業の登録を受けなければならない。正
- 4 目黒区の店舗で業務を始める前に、店舗所在地の変更届を提出しなければならない。

(19) 「C」に関する記述の正誤について、正しい組合せはどれか。

- a 特定毒物を用いた研究を廃止した場合、廃止後30日以内に当該研究を廃止した旨を届け出なければならない。正
- b 研究で使用する特定毒物の品目に変更が生じた場合、変更後30日以内に届け出なければならない。正
- c 特定毒物研究者の許可の更新を5年ごとに受けなければならない。誤
- d モノフルオール酢酸ナトリウムを貯蔵する場所に、「医薬用外」の文字及び「毒物」の文字を表示しなければならない。正

	a	b	c	d
1	正	正	正	正
2	正	正	誤	正
3	誤	誤	正	正
4	誤	正	正	誤

(20) 「D」に関する記述の正誤について、正しい組合せはどれか。

- a 水酸化ナトリウム及び20%水酸化ナトリウム水溶液が研究所の外に飛散、流出することを防ぐために必要な措置を講じなければならない。正
- b 水酸化ナトリウム及び20%水酸化ナトリウム水溶液を使用しなくなったときには、毒物劇物業務上取扱者の廃止届を提出しなければならない。誤
- c 新たに硝酸を使用する際には、取扱品目の変更届を提出しなければならない。誤
- d 飲食物の容器として通常使用される物を、20%水酸化ナトリウム水溶液の保管容器として使用した。誤

	a	b	c	d
1	正	誤	誤	誤
2	誤	正	正	誤
3	正	誤	正	正
4	正	正	誤	誤

問5

次の(21)～(25)の問いに答えなさい。

(21) 酸及び塩基に関する記述の正誤について、正しい組合せはどれか。

- a 水に酸を溶かすと、水酸化物イオン濃度が減少し、水素イオン濃度が増加する。正
- b 水酸化バリウムは~~3価~~2価の塩基である。誤
- c アレニウスの定義による塩基とは、水溶液中で水酸化物イオンOH⁻を生じる物質である。正

アレニウスの定義とは、酸と塩基を水溶液中で水素イオン(H⁺)を放出する物質を酸、水酸化物イオン(OH⁻)を放出する物質を塩基とする

	a	b	c
1	正	正	誤
2	正	誤	正
3	誤	誤	正
4	誤	正	正

(22) 濃度未知のアンモニア水をコニカルビーカーに量り取り、0.1 mol/L の塩酸を滴下して中和滴定を行う。この実験に関する記述の正誤について、正しい組合せはどれか。

- a コニカルビーカーの内部が水で濡れていたため、アンモニア水で共洗いをしてから、アンモニア水を量り取った。誤
- b 中和点付近では、塩酸を滴下するたびに、アンモニア水の入ったコニカルビーカーを振り混ぜる必要はない。誤
- c この中和滴定における適切な指示薬は、メチルオレンジである。正

	a	b	c
1	正	誤	正
2	正	誤	誤
3	誤	正	誤
4	誤	誤	正

(23) pH 2の塩酸1 mL に水を加え100 mL にした。この水溶液のpH として、最も近いものはどれか。ただし、塩酸は完全に電離しているものとし、水溶液の温度は25 °C とする。

pH 2 のときの水素イオン濃度 [H⁺] は1.0×10⁻²mol/L, 1 mL を 100 mL に薄めたので、体積は 100倍したがって、濃度は 100 分の 1, 1.0×10⁻⁴mol/L 指数部分のマイナスをプラスに考えればいいので4で pH 4

- 1 pH 2
- 2 pH 4

3 pH 6

4 pH 8

(24) 0.050 mol/L の塩酸 100 mL と 0.010 mol/L の水酸化ナトリウム水溶液 200 mL を混合させたときの水溶液の pH として、正しいものはどれか。

ただし、塩酸及び水酸化ナトリウム水溶液は完全に電離しているものとし、水溶液の温度は 25 °C とする。

また、25 °C における水のイオン積は $[H^+][OH^-] = 1.0 \times 10^{-14}$ (mol/L)² とする。

HCl : $0.05 \times 100 = 5 \text{ mmol}$ NaOH : $0.01 \times 200 = 2 \text{ mmol}$

中和の残りの HCl は $5 - 2 = 3 \text{ mmol}$ $3 / 300 \text{ mL} = 0.01 \text{ mol / L}$

◆ pH の計算 :

$$\text{pH} = -\log_{10}[H^+] = -\log_{10}(0.010) = -\log_{10}(10^{-2}) = 2$$

1 pH 2.0

2 pH 4.0

3 pH 10

4 pH 12

(25) 次の塩のうち、その水溶液が塩基性を示すものはどれか。

1 NaCl 中性

2 NH₄Cl 中性～弱酸性

3 CH₃COONa

4 (酸性) NH₄NO₃

問6

次の(26)～(30)の問いに答えなさい。

(26) 4.0 g の水酸化ナトリウム全量を水に溶かして500 mL の水溶液をつくった。この水溶液のモル濃度 (mol/L) として、正しいものはどれか。

ただし、原子量は、水素=1、酸素=16、ナトリウム=23とする。
 $\text{NaOH } 23+16+1=40 \quad (4/40) = 0.1\text{mol} / 0.5\text{L}$ よって $0.2\text{mol}/1\text{L}$

- 1 0.050 mol/L
- 2 0.10 mol/L
- 3 0.15 mol/L
- 4 0.20 mol/L

(27) 次の3つの熱化学方程式を用いて、プロパン (C_3H_8) 1.0 mol が完全に燃焼するときの熱量 (kJ) を計算したとき、正しいものはどれか。

ただし、(固)は固体、(液)は液体、(気)は気体の状態を示す。

- ① $\text{C (固・黒鉛)} + \text{O}_2 \text{ (気)} = \text{CO}_2 \text{ (気)} + 394 \text{ kJ}$
- ② $2\text{H}_2 \text{ (気)} + \text{O}_2 \text{ (気)} = 2\text{H}_2\text{O (液)} + 572 \text{ kJ}$
- ③ $3\text{C (固・黒鉛)} + 4\text{H}_2 \text{ (気)} = \text{C}_3\text{H}_8 \text{ (気)} + 105 \text{ kJ}$

$① \times 3 + ② \times 2 - ③$ より、 $\text{C}_3\text{H}_8 + 5\text{O}_2 = 3\text{CO}_2 + 4\text{H}_2\text{O} + 2221\text{kJ}$

これより、燃焼熱は 2221kJ/mol となります。

- 1 1071 kJ
- 2 1643 kJ
- 3 2221 kJ
- 4 2431 kJ

(28) ある不揮発性の非電解質 1.2 g を水 100 g に溶かした水溶液の凝固点は -0.37°C であった。この物質の分子量を求めよ。

なお、水のモル凝固点降下 K_f は $1.85 \text{ (K} \cdot \text{kg/mol)}$ とする。

$$1.85 \times (1.2/M) \times (1000/100) = 0.37 \quad M = 60$$

- 1 24
- 2 50
- 3 60

(29) 60 °C の硝酸カリウムの飽和水溶液 420 g を 20 °C に冷却したとき、析出する硝酸カリウムの質量 (g) として、最も近いものはどれか。

ただし、水に対する硝酸カリウムの溶解度 (水 100 g に溶ける g 数) は、20 °C で 32、

60 °C で 110 とする。

60 °C の硝酸カリウムの溶質を X とする $X / 420 = 110 / 210$ $X = 220$

一方、20 °C の場合の硝酸カリウムの溶解度は水 100 g に対して 32 g が溶解することですから、水 200 g に対しては $32 * 2 = 64$ g の硝酸カリウムしか溶解できません。したがって 60 °C では 220 g が溶解していた硝酸カリウムが 20 °C では 64 g しか溶解できないのですから冷却によって析出する硝酸カリウムの量は $220 - 64 = 156$ g

1 136 g

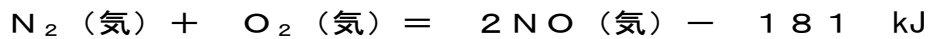
2 156 g

3 176 g

4 220 g

(30) 次の熱化学方程式で示される可逆反応が、ある温度、圧力のもとで平衡状態にある。平衡が右に移動する操作として正しいものはどれか。

ただし、(気) は気体の状態を示す。



1 温度を高くする。

2 温度を低くする。

3 圧力を上げる。

4 圧力を下げる。

問7

次の (31) ~ (35) の問いに答えなさい。

(31) 物質とその構成粒子間の結合の種類との組合せの正誤について、正しい組合せはどれか。

	物質	結合の種類	
a	ダイヤモンド	共有結合	
b	ケイ素	配位結合	共有結合
c	塩化ナトリウム	金属結合	

	a	b	c
1	正	正	誤
2	正	誤	誤
3	誤	正	誤
4	誤	誤	正

(32) コロイド溶液の性質に関する次の記述の (①) ~ (③) にあてはまる字句として、正しい組合せはどれか。

コロイド溶液に強い光を当てると、光の進路が明るく輝いて見える。これを (①チンダル現象) という。また、コロイド溶液に電極を浸して直流電圧をかけると、コロイド粒子が陽極または陰極に向かって移動する現象を (②電気泳動) という。

	①	②	③
1	チンダル現象	ブラウン運動	透析
2	凝析	ブラウン運動	塩析
3	チンダル現象	電気泳動	塩析
4	凝析	電気泳動	透析

(33) 次の原子の中で、イオン化エネルギーが最も大きいものはどれか。

- 1 F
- 2 Na
- 3 C
- 4 He

(34) 電気分解に関する次の記述の (①) ~ (④) にあてはまる字句として、正しい組合せはどれか。

電気分解では、水溶液中の還元されやすい物質が陰極で電子を (①受け取り)、酸化されやすい物質が陽極で電子を (②失う)。これらのことから、白金を電極に用いて、硫酸銅 (II) 水溶液を電気分解すると、陰極では (③銅が析出) し、陽極では

	①	②	③	④
1	失い	受け取る	酸素が発生	銅が析出
2	失い	受け取る	銅が析出	酸素が発生
3	受け取り	失う	酸素が発生	銅が析出
4	受け取り	失う	銅が析出	酸素が発生

(35) アニリン、トルエン、フェノールを溶解させたジエチルエーテル溶液について、以下の分離操作を行った。(①) 及び (②) にあてはまる化合物名として、正しい組合せはどれか。

ただし、溶液中には上記化合物以外の物質は含まれていないものとする。

分液漏斗ろうとに、このジエチルエーテル溶液を入れ、塩酸を加えて振り混ぜ、静置すると、水層には (① アニリン) の塩が分離される。水層を除き、残ったジエチルエーテル層に、アルカリ性になるまで水酸化ナトリウム水溶液を加えて振り混ぜ、静置すると、ジエチルエーテル層に (②トルエン) が得られる。

	①	②
1	アニリン	フェノール
2	アニリン	トルエン
3	フェノール	アニリン
4	フェノール	トルエン

問8

次は、1-(6-クロロ-3-ピリジルメチル)-N-ニトロイミダゾリジン-2-イリデンアミンに関する記述である。

(36) ~ (40) の問いに答えなさい。

1-(6-クロロ-3-ピリジルメチル)-N-ニトロイミダゾリジン-2-イリデンアミン (別名: (① 1) は (② 2) であり、化学式は (③ 3) である。1-(6-クロロ-3-ピリジルメチル)-N-ニトロイミダゾリジン-2-イリデンアミンを含有する製剤は、毒物及び劇物取締法により (④ 4) に指定されている。農薬としての用途は (⑤ 3) の殺虫剤である。

(36) (①) にあてはまるものはどれか。

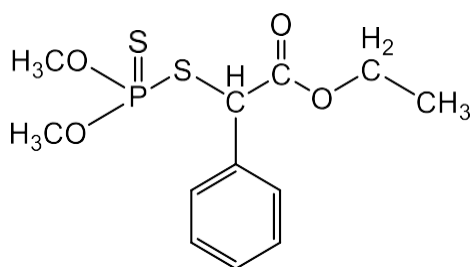
- 1 イミダクロプロド
- 2 シフルトリン
- 3 ピリミジフェン
- 4 ジアフェンチウロン

(37) (②) にあてはまるものはどれか。

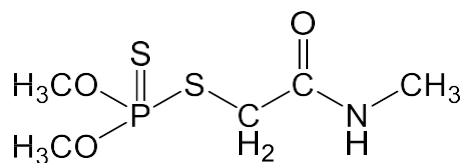
- 1 水やエタノールによく溶ける無色透明の液体
- 2 水にほとんど溶けない無色又は白色の固体
- 3 水に溶けやすい青色の固体
- 4 水にほとんど溶けない淡褐色の液体

(38) (③) にあてはまるものはどれか。

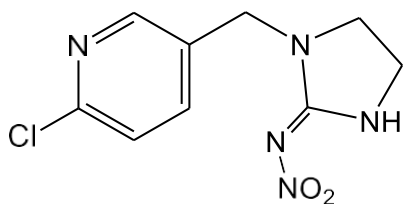
1



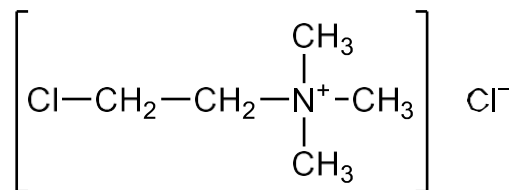
2



3



4



(39) (④) にあてはまるものはどれか。

- 1 毒物
- 2 2% (マイクロカプセル製剤にあつては12%) を超えるものは毒物、2% (マイクロカプセル製剤にあつては12%) 以下を含有するものは劇物
- 3 劇物
- 4 2% (マイクロカプセル製剤にあつては12%) 以下を含有するものを除き、劇物

(40) (⑤) にあてはまるものはどれか。

- 1 カーバメート系
- 2 ピレスロイド系
- 3 **ネオニコチノイド系**
- 4 有機^{リン}系

問9

次の(41)～(45)の問いに答えなさい。

(41) 次の記述の(①)～(③)にあてはまる字句として、正しい組合せはどれか。

N-メチル-1-ナフチルカルバメート(NAC、カルバリルとも呼ばれる。)は毒物及び劇物取締法により(①)%以下を含有するものを除き、劇物に指定されている。農薬としての主な用途は(②)であり、中毒時の解毒剤には(③)の製剤が用いられる。

	①	②	③
1	5	殺虫剤	硫酸アトロピン
2	5	除草剤	ビタミンK ₁
3	8	除草剤	硫酸アトロピン
4	8	殺虫剤	ビタミンK ₁

(42) 次の記述の(①)～(③)にあてはまる字句として、正しい組合せはどれか。

1, 1'-ジメチル-4, 4'-ジピリジニウムジクロリド(パラコートとも呼ばれる。)は(①)である。農薬としての主な用途は(②)であり、毒物及び劇物取締法により(③)に指定されている。

	①	②	③
1	無色又は白色の結晶	殺虫剤	劇物
2	無色又は白色の結晶	除草剤	毒物
3	赤褐色油状の液体	殺虫剤	毒物
4	赤褐色油状の液体	除草剤	劇物

(43) 次の記述の(①)～(③)にあてはまる字句として、正しい組合せはどれか。

5-メチル-1, 2, 4-トリアゾロ[3, 4-b]ベンゾチアゾールの別名は(①)である。毒物及び劇物取締法により、5-メチル-1, 2, 4-トリアゾロ[3, 4-b]ベンゾチアゾールとして(②)%以下を含有するものを除き、劇物に指定されている。農薬としての主な用途は(③)である。

	①	②	③
1	テフルトリン	8	除草剤
2	トリシクラゾール	1. 5	除草剤
3	トリシクラゾール	8	殺菌剤

(44) 次の記述の (①) ~ (③) にあてはまる字句として、正しい組合せはどれか。

アバメクチンは、(①) である。毒物及び劇物取締法により (②) % を超えて含有する製剤は毒物、(②) % 以下を含有する製剤は劇物に指定されている。(③) の殺虫剤として用いられる。

	①	②	③
1	類白色の結晶粉末	1. 8	マクロライド系
2	類白色の結晶粉末	0. 8	カーバメート系
3	赤褐色油状の液体	1. 8	カーバメート系
4	赤褐色油状の液体	0. 8	マクロライド系

(45) 次の記述の (①) ~ (③) にあてはまる字句として、正しい組合せはどれか。

1, 3-ジカルバモイルチオ-2-(N, N-ジメチルアミノ)-プロパン塩酸塩(カルタップとも呼ばれる。)は(①) である。農薬としての用途は(②) であり、最も適切な廃棄方法は(③) である。

	①	②	③
1	無色又は白色の固体	殺虫剤	燃焼法
2	ほとんど無色の油状液体	殺鼠剤	燃焼法
3	無色又は白色の固体	殺鼠剤	活性汚泥法
4	ほとんど無色の油状液体	殺虫剤	活性汚泥法

実地

問10

次の(46)～(50)の記述にあてはまる農薬の成分を次ページの「選択肢」からそれぞれ選びなさい。

(46) 2%以下を含有するものを除き、劇物に指定されている。50%含有の乳剤、3%含有の粉粒剤が市販されている。樹木類のカイガラムシ類やキャベツのネキリムシ類等に適用される有機燐系殺虫剤の成分である。1 **イソキサチオン**

(47) 劇物に指定されている。99.5%含有の燻蒸剤が市販されている。土壌病原菌、センチュウ等の駆除等に用いられる土壌燻蒸剤の成分である。5 **クロルピクリン**

(48) 毒物(45%以下を含有するものは劇物)に指定されている。45%含有の水和剤、1.5%含有の粉粒剤が市販されている。かんしょのハスモンヨトウやキャベツのアブラムシ類等に適用されるカーバメート系殺虫剤の成分である。4 **メトミル**

(49) 1%以下を含有するものを除き、劇物に指定されている。10%含有の水和剤、乳剤が市販されている。かんきつのアブラムシ類、もものシンクイムシ類等に適用されるピレスロイド系殺虫剤の成分である。3 **フェンプロパトリン**

(50) 毒物(0.005%以下を含有するものは劇物)に指定されている。0.005%含有の粒剤が市販されている。野ねずみに適用される殺鼠剤の成分である。2 **ダイファシノン**
「選択肢」

1 ジエチルー(5-フェニルー3-イソキサゾリル)-チオホスフェイト(別名:イソキサチオン)

2 2-ジフェニルアセチルー1,3-インダンジオン(ダイファシノンとも呼ばれる。)

3 (RS)-シアノー(3-フェノキシフェニル)メチル=2,2,3,3-テトラメチルシクロ

プロパンカルボキシラート（別名：フェンプロパトリン）

4 S-メチル-N-[(メチルカルバモイル) -オキシ]-チオアセトイミデート（別名：メトミル）

5 クロルピクリン

問 1 1

4つの容器にA～Dの物質が入っている。それぞれの物質は、農薬の成分のカルボスルファン、クロルピリホス、ジクワット、^{りん}燐化亜鉛のいずれかであり、それぞれの性状・性質及び用途は次の表のとおりである。

(51) ～ (55) の問いに答えなさい。

物質	性状・性質	用途
A	白色の結晶である。水に溶けにくい、アセトンには溶ける。 クロルピリホス	りんごのハマキムシ類やさとうきびのハリガネムシ類等に適用される有機 ^{りん} 燐系殺虫剤として用いられる。
B	暗赤色から暗灰色の結晶性粉末であり、水に極めて溶けにくい。塩酸と反応してホスフィンを発生する。 燐化亜鉛	^そ 殺鼠剤として用いられる。
C	褐色の粘稠 ^{ちゆう} 液体で、水にほとんど溶けない。 カルボスルファン	水稻（箱育苗）のイネミズゾウムシ等に適用されるカーバメート系殺虫剤として用いられる。
D	淡黄色の固体で、水に溶けやすい。 ジクワット	除草剤として用いられる。

カルボスルファン : 2, 3-ジヒドロ-2, 2-ジメチル-7-ベンゾ [b] フラニル-N-ジブチルアミノチオ-N-メチルカルバマート

クロルピリホス : ジエチル-3, 5, 6-トリクロル-2-ピリジルチオホスフェイト

ジクワット : 2, 2'-ジピリジリウム-1, 1'-エチレンジブロミド

(51) A～Dにあてはまる物質について、正しい組合せはどれか。

	A	B	C	D
1	クロルピリホス	^{りん} 燐化亜鉛	カルボスルファン	ジクワット
2	^{りん} 燐化亜鉛	クロルピリホス	ジクワット	カルボスルファン
3	クロルピリホス	^{りん} 燐化亜鉛	ジクワット	カルボスルファン
4	^{りん} 燐化亜鉛	クロルピリホス	カルボスルファン	ジクワット

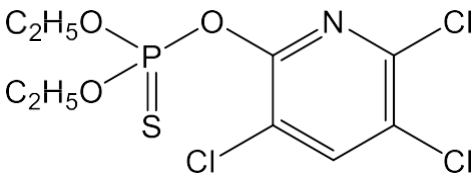
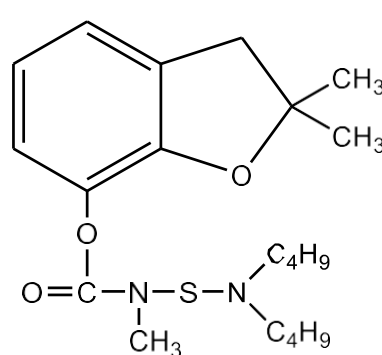
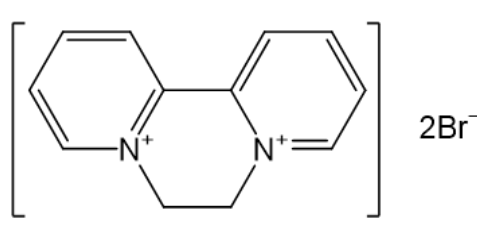
(52) 物質 A の中毒時の解毒に用いられる物質として、最も適切なものはどれか。

- 1 チオ硫酸ナトリウム
- 2 2-ピリジルアルドキシムメチオダイド (別名: PAM)
- 3 ペニシラミン
- 4 ジメルカプロール (BALとも呼ばれる。)

(53) 物質 B を含有する製剤の毒物及び劇物取締法上の規制区分について、正しいものはどれか。

- 1 毒物に指定されている。
- 2 毒物に指定されている。ただし、1%以下を含有し、黒色に着色され、かつ、トウガラシエキスを用いて著しくからく着味されているものは劇物に指定されている。
- 3 劇物に指定されている。
- 4 劇物に指定されている。ただし、1%以下を含有し、黒色に着色され、かつ、トウガラシエキスを用いて著しくからく着味されているものを除く。

(54) 物質 C の化学式として、正しいものはどれか。

- | | | | |
|---|---|---|--|
| 1 |  | 2 | Zn_3P_2 |
| 3 |  | 4 |  |

(55) 物質 D の廃棄方法として、最も適切なものはどれか。

- 1 分解法
- 2 固化隔離法
- 3 燃焼法
- 4 酸化法

問 1 2

あなたの店舗では、2-イソプロピル-4-メチルピリミジル-6-ジエチルチオホスフェイト（別名：ダイアジノン）のみを有効成分として含有する農薬及び塩素酸ナトリウムのみを有効成分として含有する農薬を取り扱っています。

（ 56 ） ～ （ 60 ） の問いに答えなさい。

（ 56 ） 「2-イソプロピル-4-メチルピリミジル-6-ジエチルチオホスフェイトの純品の性質について教えてください。」という質問を受けました。質問に対する回答として、最も適切なものはどれか。

- 1 暗赤色から暗灰色の結晶性粉末で、水に溶けません。
- 2 青色の固体で、水に溶けやすいです。
- 3 無色の気体で、水にわずかに溶けます。
- 4 無色の液体で、水にほとんど溶けません。

（ 57 ） 「2-イソプロピル-4-メチルピリミジル-6-ジエチルチオホスフェイトのみを有効成分として含有する農薬の主な用途を教えてください。」と質問を受けました。質問に対する回答として、最も適切なものはどれか。

- 1 殺鼠^そ剤です。
- 2 殺虫剤です。
- 3 植物成長調整剤です。
- 4 除草剤です。

（ 58 ） 「塩素酸ナトリウムのみを有効成分として含有する農薬の主な用途を教えてください。」と質問を受けました。質問に対する回答として、最も適切なものはどれか。

- 1 殺鼠^そ剤です。
- 2 殺虫剤です。
- 3 植物成長調整剤です。
- 4 除草剤です。

(59) 「塩素酸ナトリウムの廃棄方法について教えてください。」という質問を受けました。質問に対する回答として、最も適切なものはどれか。

- 1 チオ硫酸ナトリウムの水溶液に希硫酸を加えて酸性にし、この中に少量ずつ入れます。反応終了後、反応液を中和し多量の水で希釈して処理します。
- 2 セメントを用いて固化し、埋立処分します。
- 3 水で希釈し、アルカリ水で中和した後、活性汚泥で処理します。
- 4 木粉（おが屑）等に吸収させてアフターバーナー及びスクラバーを備えた焼却炉で焼却します。

(60) 「塩素酸ナトリウムの規制区分について教えてください。」という質問を受けました。質問に対する回答として、最も適切なものはどれか。

- 1 毒物に指定されています。ただし、爆発薬を除きます。
- 2 毒物に指定されています。ただし、5%以下を含有する製剤は劇物に指定されています。なお、いずれも爆発薬を除きます。
- 3 劇物に指定されています。ただし、爆発薬を除きます。
- 4 5%以下を含有するもの及び爆発薬を除き、劇物に指定されています。